













# Koordinatlar Bul



Adın Soyadın : .....

- Aşağıdaki tabloya yerleştirilmiş nesnelerin koordinatlarını bulup altındaki alana yazalım.

↖ Sütunlar ↗

	A	B	C	D	E	F	G	H	I
1									
2									
3									
4									
5									
6									
7									
8									
9									

↖ Satırlar ↗



{ A , 1 }  
Sütun Satır



{ ..... , ..... }



{ ..... , ..... }



{ ..... , ..... }



{ ..... , ..... }



{ ..... , ..... }



{ ..... , ..... }



{ ..... , ..... }



{ ..... , ..... }



{ ..... , ..... }



{ ..... , ..... }



{ ..... , ..... }