











Aşağıdaki hayvanların kütlelerine göre sorular yazarak cevaplayalım.

				
23 kg	32 kg	27 kg	19 kg	35 kg

@esra\_ogretmenimm

1)






Aşağıdaki hayvanların kütlelerine göre sorular yazarak cevaplayalım.

				
23 kg	32 kg	27 kg	19 kg	35 kg

@esra\_ogretmenimm

1)

Aşağıdaki hayvanların kütlelerine göre sorular yazarak cevaplayalım.

				
23 kg	32 kg	27 kg	19 kg	35 kg

@esra\_ogretmenimm

1)



23 kg



32 kg



27 kg



19 kg



35 kg

### Sorular

1) Kütlesi en ağır olan hayvan hangisidir?

.....

2) Kütlesi en hafif olan hayvan hangisidir?

.....

3) Maymun ile ayının kütleleri toplamı kaçtır?

.....

4) Zebra ile filin kütleleri farkı kaçtır?

.....

5) Zürafanın kütlesi, maymunun kütlesinden kaç kg fazladır?

.....