


# GEOMETRİK ŞEKİLLER



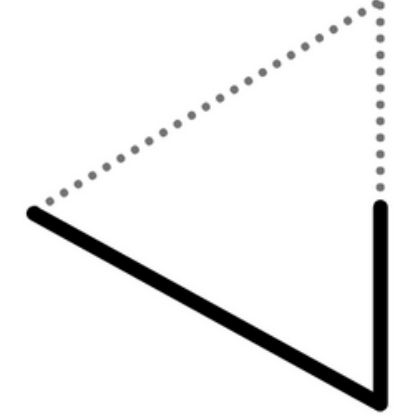
Geometrik şekilleri tamamlayarak boyayalım. Altlarına istenilen bilgileri yazalım.



Şeklin Adı: .....

Kenar Sayısı: .....


Köşe Sayısı: .....



Şeklin Adı: .....

Kenar Sayısı: .....

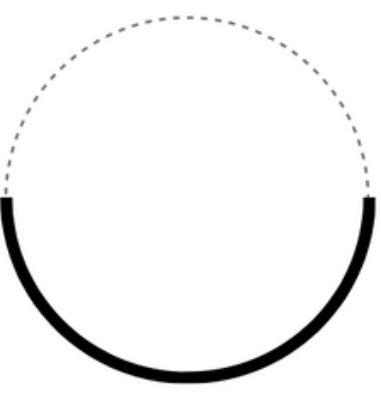
Köşe Sayısı: .....



Şeklin Adı: .....

Kenar Sayısı: .....

Köşe Sayısı: .....

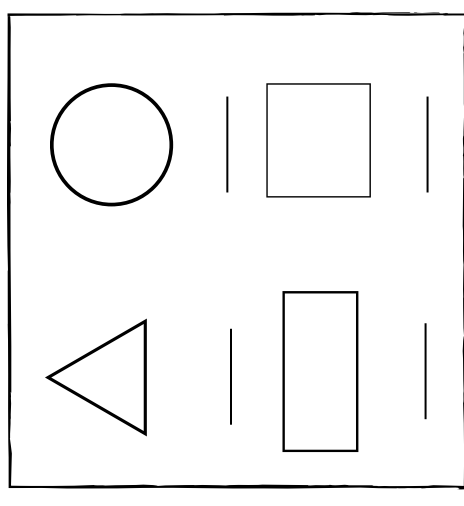
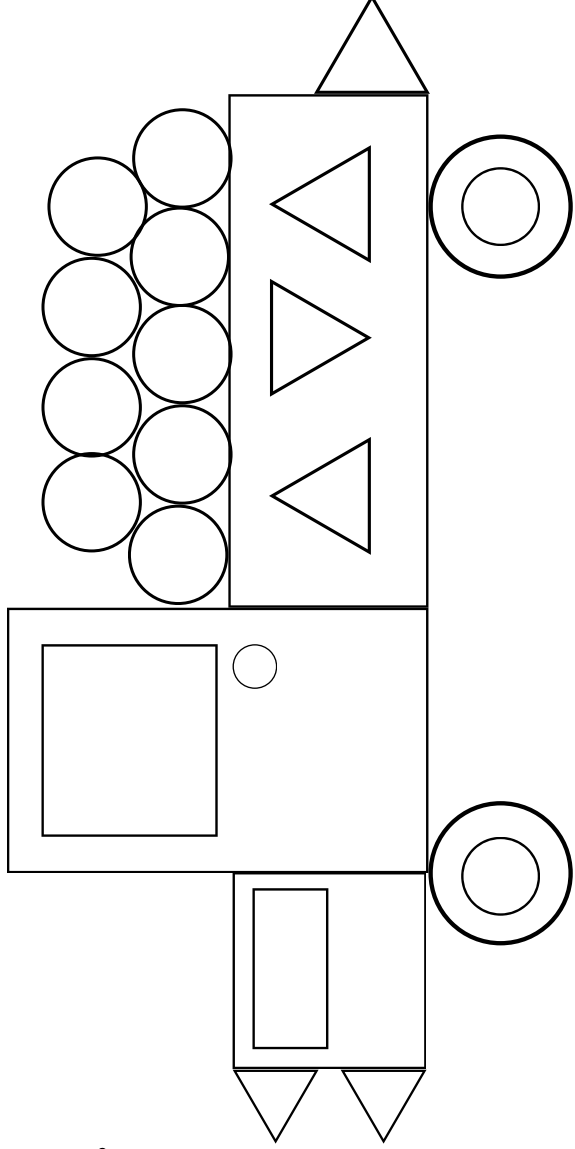


Şeklin Adı: .....


Kenar Sayısı: .....

Köşe Sayısı: .....


**KAĞIT ANE**




Aşağıdaki geometrik şekilleri özellikleri ile eşleştirelim.




1



2



3



4

4 kenarım var ve hepsi aynı uzunluktadır.

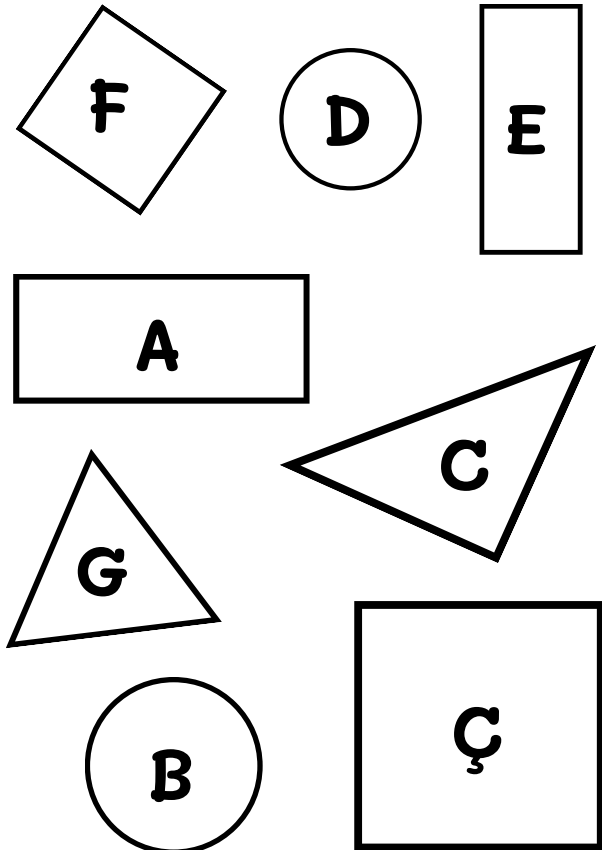
Kenar ve köşem yoktur.

4 köşem var. iki kenarım uzun, iki kenarım kısadır.

3 köşem ve kenarım var. Kenar uzunluklarım değişebiliyor.

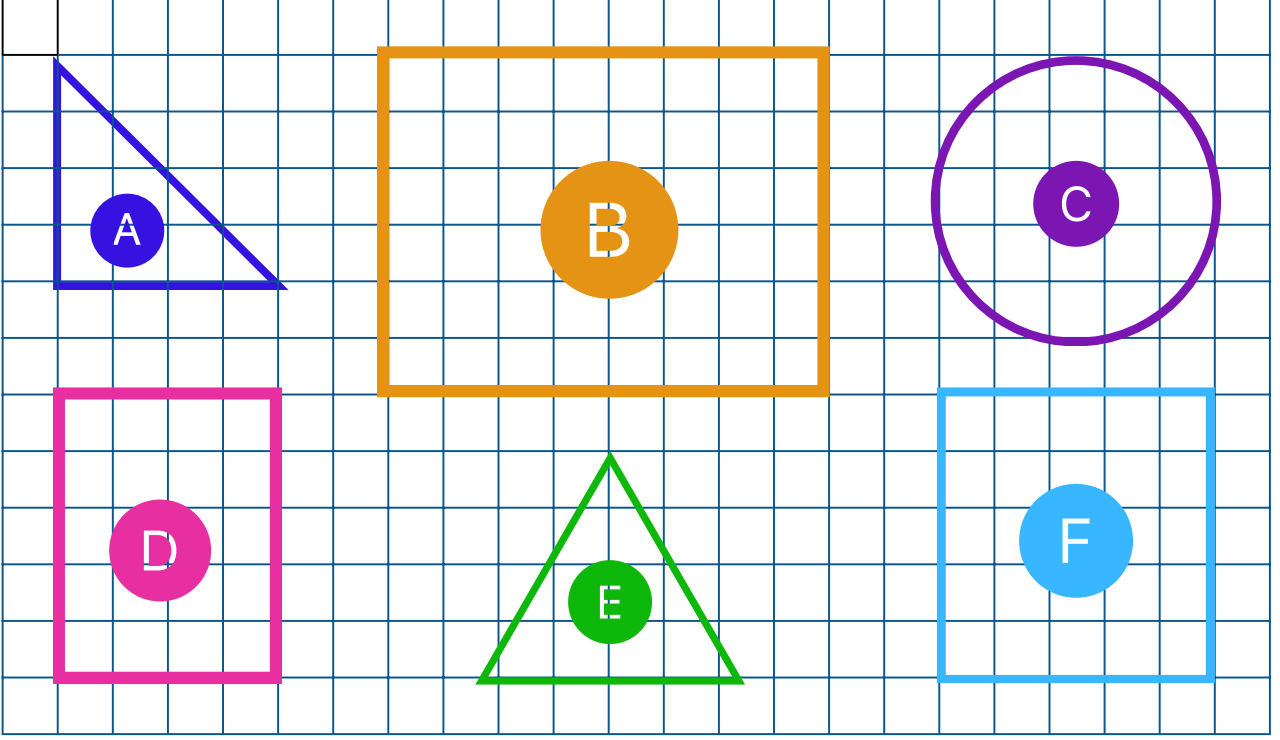
@esra\_ogretmenimm

Aşağıdaki verilen şekillerin adını, kenar ve köşe sayılarını yazalım.



Şekil	Şeklin Adı	Köşe Sayısı	Kenar Sayısı
A			
B			
C			
Ç			
D			
E			
F			
G			

# GEOMETRİK ŞEKİLLER



Tabloyu tamamlayalım.

Şekil	Şeklin Adı	Kenar ve Köşe Sayısı
A		
B		
C		
D		
E		
F		