



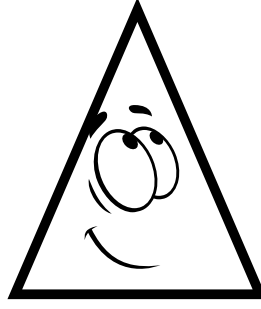
Aşağıdaki geometrik şekilleri özellikleri ile eşleştirelim.




1



2



3



4

4 kenarım var ve hepsi aynı uzunluktadır.

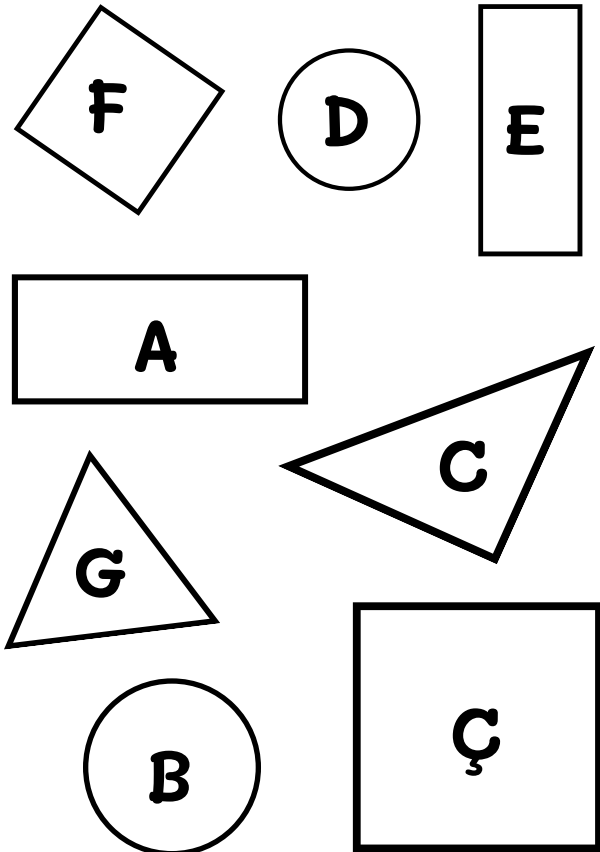
Kenar ve köşem yoktur.

4 köşem var. iki kenarım uzun, iki kenarım kısadır.

3 köşem ve kenarım var. Kenar uzunluklarım değişebiliyor.

@esra_ogretmenim

Aşağıdaki verilen şekillerin adını, kenar ve köşe sayılarını yazalım.



Şekil	Şeklin Adı	Köşe Sayısı	Kenar Sayısı
A			
B			
C			
Ç			
D			
E			
F			
G			