
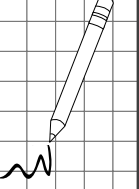



1. Ağaçta bir düzine kuş vardı. Kuşların 7 tanesi uçtu. Geriye ağaçta kaç kuş kaldı?




2. 1 düzine defter 1 deste kalemde kaç tane fazladır?



3. Annem 3 düzine çiçekli, 1 deste sade kahve fincanı aldı. Annem kaç tane kahve fincanı almıştır?




4. Marketten aldığım 3 deste yumurtanın 6 tanesi kırıldı. Geriye sepette kaç yumurta kaldı ?




5. Okul maçında 1 düzine top tuttum. Karşı takımın kalecisi benden 3 top az tuttu. İkimiz toplam kaç top yakaladık?



6. Ayşegül'ün istediği oyuncak 2 desteden 5 eksiktir. Ayşegül'ün istediği oyuncak kaç TL'dir?




7. 8 tane çiçek toplayan Ayhan'ın 2 düzine çiçek toplayabilmesi için kaç tane daha çiçek toplaması gerekir?




8. Bir okul servisi 2 düzineden 9 fazla öğrenci alabilmektedir. Bu okul servisi kaç öğrenci alabilir?




1. 3 kiraz daha yersem bir düzine kiraz yemiş olacağım. Şuan kaç tane kiraz yemişimdir?



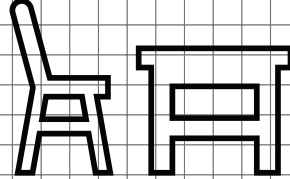
2. Dün 13 sayfa kitap okudum. Bugün ise bir desteden 4 fazla kitap okudum. Toplam kaç sayfa kitap okudum?



3. Kırtasiyeden 2 düzine kalem, 1 düzine silgi ve 1 deste defter aldık. Toplam kaç tane kırtasiye malzemesi almış olduk?




4. Sınıfımızdaki 4 düzine sıradan 7 tanesini sınıfımızdan çıkardık. Geriye sınıfımızda kaç tane sıra kalmıştır?




5. Bir baloncu 5 balon daha satarsa 3 düzine balon satmış olacaktır. Baloncu kaç balon satmıştır?



6. Bir otobüsteki 3 deste yolcudan 6 yolcu ilk durakta indi. İkinci durakta ise 1 deste kadar yolcu bindi. Son durumda otobüste kaç yolcu olmuştur?



7. Halam 2 düzine elmanın 7 tanesini elmalı kurabiye için kullandı. Geriye kaç elma kalmıştır?



8. Fatma'nın 2 düzine boya kalemi vardı. Arkadaşı Fatma'ya 1 deste boya kalemi verdi. Fatma'nın kaç boya kalemi oldu?

