




➔ Tablolardaki nesnelerin oluşturduğu deste ve düzine sayılarına dikkat ederek işlemleri örnekteki gibi yapalım.




1 **destenin** 4 fazlası **14** eder.




1 ..... 6 eksiği ..... eder.




1 ..... 9 fazlası ..... eder.




1 ..... 9 eksiği ..... eder.




1 ..... 4 fazlası ..... eder.



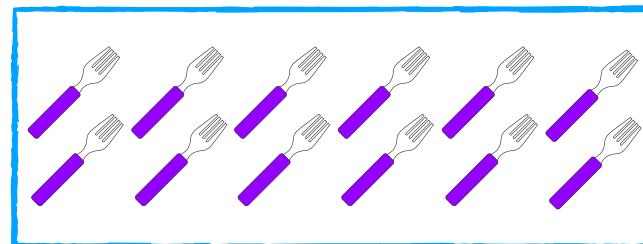
1 ..... 8 fazlası ..... eder.



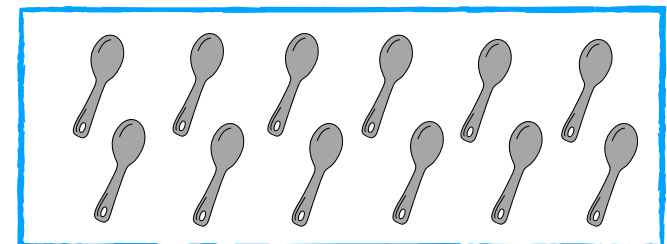
1 ..... 1 eksiği ..... eder.



1 ..... 3 eksiği ..... eder.



1 ..... 8 fazlası ..... eder.



1 ..... 5 eksiği ..... eder.



# DESTE VE DÜZİNE ALİŞTİRMA ÇALIŞMALARI

→ İşlemleri yaparak cevabın olduğu kutucuğu boyyalım.

3 destenin 5 eksiği kaçtır?

25

2 düzinenin 7 fazlası kaçtır?

31

2 destenin 9 fazlası kaçtır?

29

3 düzinenin 9 eksiği kaçtır?

27

2 düzinenin 1 deste eksiği kaçtır?

8

2 destenin 1 düzine eksiği kaçtır?

14

1 düzinenin 2 deste fazlası kaçtır?

32

3 destenin 9 eksiği kaçtır?

21

3 destenin 5 eksiği kaçtır?

25

2 düzinenin 1 düzine fazlası kaçtır?

36