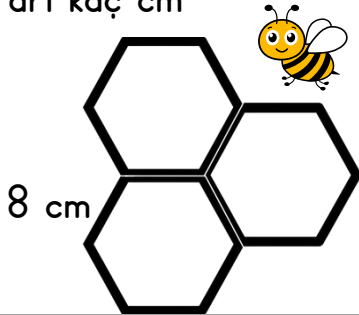


1. Bir kenarının uzunluğu 145 m olan kare şeklindeki villanın çevresi kaç metredir?

2. Kenar uzunlukları 27 m, 41 m, 38 m olan üçgen şeklindeki bir kümesin çevresi tuğlayla çevireceklerdir. Kaç m tuğla gerekir?

3. Uzun kenarı 26 m , kısa kenarı 19 m olan dikdörtgen şeklindeki bahçenin etrafını bir tur yürüyen Salih kaç m yürümüş olur?

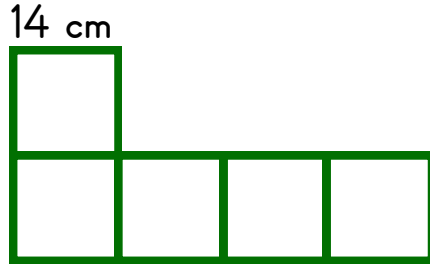
4. Aşağıdaki arı peteğin çevresinde dolanmaktadır. Bu arı kaç cm yürümüştür?



5. Kerem kare çerçevenin bir kenar uzunluğunu 7 açacak uzunluğunda ölçmüştür. Buna göre, tablonun çevresi kaç açacak boyundadır?



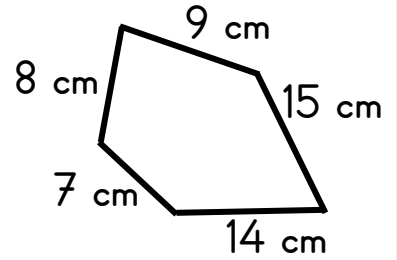
6. Aşağıdaki şekil eş karelerden oluşmuştur. Tüm şeklin çevresi kaç cm'dir?



7. Aşağıdaki otoparkın çevresi kaç m'dir?



8. Aşağıdaki tarlanın çevresine tel çekilecektir. Buna göre kaç metre tele ihtiyaç vardır?



9. Annem, kare şeklindeki örtünün etrafını dantel ile örüyor. Örtünün bir kenarının uzunluğu 175 cm olduğuna göre bu iş için kaç m dantel kullanmıştır?

10. Tabletın uzun kenarı, kısa kenarından 15 cm daha uzun olduğuna göre tabletin çevresi kaç cm'dir?

24 cm



**11.** Arda, bir kenar uzunluğu 15 m olan kare şeklindeki bisiklet parkurunda 8 tur atıyor. Arda toplam kaç metre yol gitmiştir?

**15.** Murat tüm kenarları eşit olan üçgen şeklindeki pencerenin çevresini 243 cm ölçüyor. Murat'ın ölçtüğü pencerenin bir kenarının uzunluğu kaç cm'dir?

**12.** Aşağıdaki kare ve dikdörtgenin çevre uzunlukları eşittir. Buna göre karenin bir kenarı kaç cm'dir?



**16.** Evimize aldığımız halının kısa kenarı 62 cm, uzun kenarı 98 cm olduğuna göre halını çevresi kaç cm'dir?

**13.** Recep, tüm kenarları eşit olan üçgen şeklindeki parkurda 5 tur atıyor. Parkurun bir kenar uzunluğu 57 m ise Recep toplam kaç metre yol gitmiştir?

**17.** Tenis kortunun kısa kenarı 27 m, uzun kenarı ise kısa kenarının 2 katıdır. Tenis kortunun çevresi kaç m'dir?

**14.** Kare şeklindeki bir tarlanın çevre uzunluğu 160 m'dir. Buna göre tarlanın bir kenarının uzunluğu kaç m'dir?

**18.** Bir kenarı 3 düzine uzunluğunda olan kare şeklindeki bir koşu parkurunun çevresinde koşarsak kaç m koşmuş oluruz?