

3.SINIF 4. HAFTA DEĞERLENDİRME SORULARI

KIŞ

Bembeyaz oldu ortalık
Kışın da başka tadı var
Hava bir parça karanlık
Her yanda buz tutmuş sular

Gel biz de şöyle kocaman
Bir kardan adam yapalım
Eğer düşmekten korkmazsan
Buzun üstünde kayalım ..

VASFİ MAHİR KOCATÜRK

1) Şiirin şairi kimdir?

- a) Vasfi Mahir KOCATÜRK
- b) Mehmet Akif ERSOY
- c) Mustafa Kemal ATATÜRK

2) Şiir kaç dizeden oluşmuştur?

- a) 2
- b) 8
- c) 10

3) Şiirin başlığının zıt anlamı aşağıdakilerden hangisidir?

- a) kış
- b) sonbahar
- c) yaz

4) Şiirin üçüncü dizesinin 4. kelimesinin zıt anlamı kaç harften oluşur?

- a) 8
- b) 5
- c) 9

5) Aşağıdaki kelime çiftlerinden hangisi eş anlamlı değildir?

- a) rüzgar - yel
- b) sonbahar - güz
- c) şişman - zayıf

6) Hangi cümlenin sonuna "nokta" koymayız?

- a) Seni görünce şaşırđım
- b) Akşam size kim gelecek
- c) Dün gece yatmadan sütümü içtim

7) Aşağıdaki sözcük çiftlerinden hangisi anlam bakımından farklıdır?

- a) Eski-yeni
- b) beyaz-ak
- c) Alçak-yüksek

8) Aşağıdaki cümlelerin hangisinde "abartma" vardır?

- a) Arkadaşım çok komikti.
- b) Bir of çeksem karşıki dağlar yıkılır.
- c) Çok mutluyum.

457	980	321
978	346	212

9) Yukarıdaki tabloda verilen doğal sayılardan kaç tanesi çift sayıdır?

- A) 4
- B) 6
- C) 8

10) İşlemin sonucu çift sayıdır?

- A) $15 + 33$
- B) $43 - 12$
- C) $47 + 10$

11) Üç basamaklı en büyük doğal sayı ile ilgili verilen bilgilerden hangisi doğrudur?

- a) Tek sayıdır.
- b) Çift sayıdır.
- c) Onlar basamağındaki sayı 8'dir.

12) Aşağıdaki sayılardan hangisi diğerlerinden daha büyüktür?




- a) XII
- b) XVI
- c) X

2,5,7

13) Yukarıda verilen rakamlar birer kez kullanılarak oluşturulan üç basamaklı en büyük ve en küçük doğal sayının karşılaştırılıyor. Yukarıda verilenlere göre bu karşılaştırma hangi seçenekte doğru verilmiştir?

- a) $752 > 256$
- b) $572 < 571$
- c) $752 > 257$

14) Koklama duyu organı hangisidir?




- a) 
- b) 
- c) 

15) Yandaki organ hangi duyuyu algılar?

- A) Tat alma
- B) Koklama
- C) İşitme



16) Hangisi bir duyu organı değildir?

- a) 
- b) 
- c) 

17) Yemyeşil ormanda mis gibi çiçeklerin kokusunu hissettik? Yukarıdaki cümlede hangi duylardan bahsedilmemektedir?

- a) görme
- b) işitme
- c) koklama

18) Okulda yapılan hangi etkinlik toplumsal dayanışmayı arttırmış olur?

- a) Müzik çalışması
- b) Halk oyunları çalışması
- c) Yardım kermesi

19) Aşağıda verilenlerden hangisi kroki ile ilgili doğru bir bilgi değildir?

- a) Krokiler adres bulmamızı sağlamaz..
- b) Krokiler kuş bakışı çizilir.
- c) Krokiler kabataslak çizilir.

20) Aşağıdakilerden hangisi okulun bize kazandırdıklarından değildir?

- a) Sorumluluk bilinci
- b) İşbirliği yapma
- c) Sınıfı kirli tutma.

cevap

anahtarı

1-A

11-A

2-B

12-B

3-C

13-C

4-A

14-B

5-C

15-C

6-B

16-B

7-B

17-B

8-B

18-C

9-A

19-A

10-A

20-C