

3. SINIF 3. HAFTA DEĞERLENDİRME SORULARI

ALTIN YUMURTA

Köylünün biri kaz almıştı. Ertesi sabah kümese uğradı, follukta altın bir yumurtanın bulunduğunu görünce çok şaşırdı Şakacı komşusu ona şaka yapmış olabilirdi. Söyle düşünerek yumurtayı eline aldı, gözden geçirdi. Şaşılacak şey, bu gerçekten alim bir yumurtaydı . Ertesi sabah ve onu izleyen günlerde de aynı şey oldu. Kaz her gün bir altın yumurta yumurtluyordu. Ama köylü çabucak zengin olmak istedi. Tüm altınlara sahip olmak için kazı kesti içine baktı. Ne görse beğenirsiniz? "Hiç birşey!.."

La Fonten Masalları

1) Metnin başlığı kaç heceden oluşur?

A) 5 B) 6 C) 7

2) Köylü kazı neden kesmiştir?

A) Yemek için kestiler.
B) Hasta olduğu için kestiler.
C) Köylüler zengin olmak için kesti.

3) -" pahalı - ucuz " sözcükleri arasındaki ilişki aşağıdakilerin hangisinde vardır?

A) dolu - boş B) doktor - tabip
C) yel - rüzgâr




4) "annemle tatilde ordu'ya gideceğiz." cümlesinde, büyük harfte başlaması gerektiği halde küçük harf ile başlatılan kelimeler hangileridir?

A)Tatil- Ordu
B) Ordu - Annem
C) Tatil- annem

5) Aşağıdaki sözcüklerden hangisinin hem zıt anlamlısı hem de eş anlamlısı vardır?

A) uzun B) siyah C) sıra

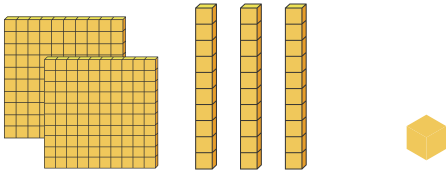
6) Adı alfabemizin 14. harfiyle başlayan hayvan hangisidir?

A)  B)  C) 

7) Aşağıdaki kelimelerden ünsüz harf sayısı diğerlerinden fazladır?

A) mutluluk B) silgi C) tilki

@oyaogrtmn



- 8) Yukarıdaki sayının onlar ve yüzler basamağı yer değiştirirse yeni sayımız kaç olur?
- A) 321 B) 231 C) 132
- 9) Üç basamaklı rakamları farklı en büyük doğal sayının onlar basamağındaki rakam kaçtır?
- A) 9 B) 8 C) 6
- 10) 3,0,5 rakamlarını birer kez kullanarak aşağıdaki sayılardan hangisi yazılamaz?
- A) 530 B) 503 C) 355
- 11) Aşağıda verilen yüzer ritmik saymalardan hangisinde hata yapılmıştır?
- A) 166-266-366-466
B) 420-520-602-720
C) 113-213-313-413
- 12) 345 sayısı en yakın yüzlüğe yuvarlanırsa aşağıdaki sayılardan hangisine ulaşırız ?
- A) 350 B) 300 C) 400

- 13) Aşağıda verilen ritmik saymalardan hangisinde onar ritmik sayma yapılmıştır?
- A) 210-220-230-240
B) 310-410-510-610
C) 561-562-563-664
- 14) Aşağıdaki doğal sayılar ,en yakın onluğuna yuvarlanmıştır . Buna göre hangi seçenekte yanlışlık yapılmıştır ?
- A) 324 - 320
B). 554 - 560
C) 656- 660
- 15) 367 doğal sayısının birler ve onlar basamağı yer değiştirip yeni bir sayı oluşturulmuştur. Oluşturulan bu doğal sayıyı en yakın onluğa yuvarladığımızda aşağıdakilerden hangisine ulaşırız?
- A) 380 B) 370 C) 350
- 16) 446'dan başlayıp ileriye onar sayarken söylediğimiz 4. sayının en yakın yüzlüğü kaçtır?
- A) 400 B) 480 C) 500
- 17) 'İki yüz kırk dört' sayısının onlar ve birler basamağındaki rakamların basamak değerleri farkı kaçtır?
- A) 30 B) 33 C) 36

18) Dünya'mızın şekli ile ilgili aşağıda verilen ifadelerden hangisi doğrudur?

- A) Dünya'mızın şekli küpe benzer.
- B) Dünya'mızın şekli küreye benzer.
- C) Dünya'mızın şekli silindire benzer.

19) Aşağıda verilen bilgilerden hangisi doğrudur?

- A) Dünya'mızın yüzeyinde karalar daha çok yer kaplar.
- B) Dünya'mızın yüzeyinde sular daha çok yer kaplar.
- C) Dünya'mızın yüzeyinde karalar ve sular eşit olarak yer kaplar.

20) Kar, yağmur, sis gibi doğa olayları Dünya'mızın hangi katmanında gerçekleşir?

- A) Hava B) Kara C) Su

21) Aşağıdakilerden hangisi kara katmanı ile ilgili doğru bir bilgidir?

- A) Taş, toprak ve madenlerden meydana gelir.
- B) Canlı yaşamına rastlanmaz.
- C) Canlıların yaşamı için önem taşımaz.

22) Dünya modelinde mavi renkle gösterilen katman hangisidir ?

- A) Kara katmanı
- B) Su Katmanı
- C) Hava Katmanı

23) Resim kursuna gidiyorum. Resim yapmayı çok seviyorum. En büyük amacım ileride iyi bir ressam olmak.

Yukarıdaki sözleri aşağıdaki seçeneklerin hangisindeki öğrenci söylemiştir ?



Bencil	Kıskanç	Cömert
Kibar	Güvenilir	Çalışkan

24) Yukarıda verilen tablodaki özelliklerden kaç tanesi arkadaşımızda olmasını istediğimiz özelliklerdendir?

- A) 5 B) 6 C) 4

25) Okulların açıldığı hafta hangisini kutlarız ?

- A) Orman Haftası
- B) Kızılay Haftası
- C) İlköğretim Haftası

1-A
2-C
3-A
4-B
5-B
6-A
7-A
8-A
9-B
10-C

11-B
12-B
13-A
14-B
15-A
16-C
17-C
18-B
19-B
20-A

21-A
22-B
23-A
24-C
25-C

@oyaogrtmn