

1. 12'den başlayarak ileriye doğru birer sayarsak 6. saymada hangi sayıyı söyleriz?

Ritmik sayma şeklinde yazarak cevaplayalım.

12 - 13 - 14 - 15 - 16 - 17

2. 39'dan başlayarak ileriye doğru birer sayarsak 7. saymada hangi sayıyı söyleriz?

Ritmik sayma şeklinde yazarak cevaplayalım.

3. 28'den başlayarak ileriye doğru birer sayarsak 3. saymada hangi sayıyı söyleriz?

Ritmik sayma şeklinde yazarak cevaplayalım.

4. 10'dan başlayarak ileriye doğru ikişer sayarsak 5. saymada hangi sayıyı söyleriz?

Ritmik sayma şeklinde yazarak cevaplayalım.

5. 7'den başlayarak ileriye doğru ikişer sayarsak 8. saymada hangi sayıyı söyleriz?

Ritmik sayma şeklinde yazarak cevaplayalım.

6. 18'den başlayarak ileriye doğru üçer sayarsak 5. saymada hangi sayıyı söyleriz?

Ritmik sayma şeklinde yazarak cevaplayalım.

7. 20'den başlayarak ileriye doğru beşer sayarsak 6. saymada hangi sayıyı söyleriz?

Ritmik sayma şeklinde yazarak cevaplayalım.

8. Bir kurbağa her zıplayıpta 4 metre ilerliyor. Bu kurbağa 4. zıplayıpta kaç metre ilerlemiş olur? Ritmik sayma şeklinde yazarak cevaplayalım.

9. 11'den başlayarak ileriye doğru dörder sayarsak 7. saymada hangi sayıyı söyleriz?

Ritmik sayma şeklinde yazarak cevaplayalım.

10. 16'dan başlayarak ileriye doğru onar sayarsak 4. saymada hangi sayıyı söyleriz?

Ritmik sayma şeklinde yazarak cevaplayalım.



1. 16'dan başlayarak geriye doğru birer sayarsak 5. saymada hangi sayıyı söyleriz?

Ritmik sayma şeklinde yazarak cevaplayalım.

16 - 15 - 14 - 13 - (12)

2. 17'den başlayarak geriye doğru birer sayarsak 7. saymada hangi sayıyı söyleriz?

Ritmik sayma şeklinde yazarak cevaplayalım.

3. 21'den başlayarak geriye doğru ikişer sayarsak 3. saymada hangi sayıyı söyleriz?

Ritmik sayma şeklinde yazarak cevaplayalım.

4. 38'den başlayarak geriye doğru ikişer sayarsak 6. saymada hangi sayıyı söyleriz?

Ritmik sayma şeklinde yazarak cevaplayalım.

5. 46'dan başlayarak geriye doğru üçer sayarsak 5. saymada hangi sayıyı söyleriz?

Ritmik sayma şeklinde yazarak cevaplayalım.

6. 52'den başlayarak geriye doğru üçer sayarsak 9. saymada hangi sayıyı söyleriz?

Ritmik sayma şeklinde yazarak cevaplayalım.

7. 70'dan başlayarak geriye doğru beşer sayarsak 6. saymada hangi sayıyı söyleriz?

Ritmik sayma şeklinde yazarak cevaplayalım.

8. 63'ten başlayarak geriye doğru beşer sayarsak 4. saymada hangi sayıyı söyleriz?

Ritmik sayma şeklinde yazarak cevaplayalım.

9. 91'den başlayarak geriye doğru dörder sayarsak 8. saymada hangi sayıyı söyleriz?

Ritmik sayma şeklinde yazarak cevaplayalım.


10. 80'den başlayarak geriye doğru onar sayarsak 7. saymada hangi sayıyı söyleriz?

Ritmik sayma şeklinde yazarak cevaplayalım.




1. Bir simitçi kuşlara her gün 2 simit veriyor.
Bir haftada kaç simit vermiştir?

Ritmik sayma şeklinde yazarak cevaplayalım.



2. Kaya ailesi her gün 5 ekmek tüketiyor.
8 gün sonra kaç ekmek tüketmiş olur?



3. Bir balıkçı her olta attığında 4 balık tutuyor. 9 kez denize olta atan balıkçı kaç balık tutmuştur?



4. Öğretmen her gün 3 sayfa yazı yazdırıyor.
46 sayfalık bir defterde 8 gün sonra kaç sayfa boş kalır?




5. Halamların apartmanının her katında 4 daire vardır. Apartman 6 katlı olduğuna göre apartmanda toplam kaç daire vardır?



6. Anne sincabın 6 cevizi vardı. 1 hafta boyunca her gün üçer ceviz daha topladı. 1 hafta sonra anne sincabın kaç cevizi oldu?



7. Ege her gece uyumadan önce 4 sayfa kitap okuyor. 56 sayfalık bir kitaba başlayan Ege'nin 9 gün sonra okumadığı kaç sayfası kalır?



8. Ayşe'nin tavuğu her gün 5 yumurta veriyor. Dolapta 4 yumurta vardı. 9 gün sonra Ayşe'nin kaç yumurtası olur?

