

2.Sınıf Matematik Dersi

"4. TEMA"

Bütün, Yarım ve Çeyrek Süreç Odaklı Değerlendirme

→ İlk sorudaki her doğru cevap 1'er puandır. Diğer sorular 3'er puandır.

	ADI SOYADI	TOPLAM PUAN	GENEL DEĞERLENDİRME
1			
2			
3			
4			
5			
6			
7			
8			
9			
10			
11			
12			
13			
14			
15			
16			
17			
18			
19			
20			
21			
22			
23			
24			
25			
26			
27			
28			
29			
30			
31			
32			
33			
34			
35			
36			
37			
38			

2. SINIF KESİRLER SÜREÇ DEĞERLENDİRMESİ

1) Aşağıdaki ifadeleri okuyalım. Noktalı yerlere uygun sayıları yazalım.

1 bütün = yarım

1 bütün = çeyrek

3 bütün = yarım

4 çeyrek = bütün

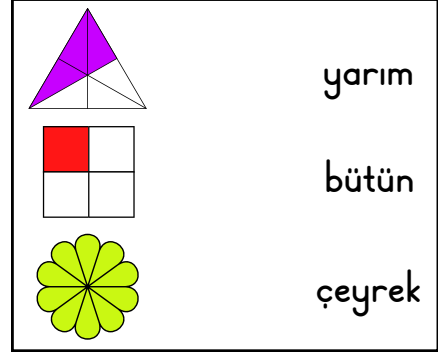
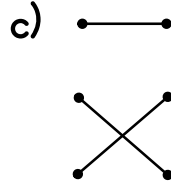
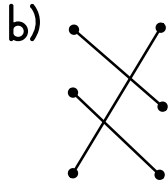
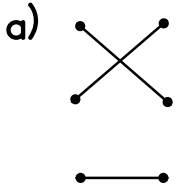
2 bütün = çeyrek

1 yarım = çeyrek

2 çeyrek = yarım

2 yarım = bütün

2) Yandaki şekilleri eşleştirdiğimizde hangi model oluşur?



3) Yandaki elmalar toplam kaç çeyrek elma eder?

a) 8 çeyrek

b) 6 çeyrek

c) 12 çeyrek

4) Yandaki çeyrek portakallar kaç yarım portakal eder?

a) 3 yarım

b) 2 yarım

c) 4 yarım

5) Bir çikolatayı 4 eş parçaya böldüm. 1 parçasını kardeşime verdim. Kalanını ben yedim. Ben kaç parça çikolata yedim?

a) 2 çeyrek

b) 3 çeyrek

c) 1 yarım

Geliştirilmeli 0-5	Yeterli 6-9	İyi 10-14	Çok İyi 15-20



İlk sorudaki her doğru cevap 1'er puandır. Diğer sorular 3'er puandır.