

2.SINIF
MATEMATİK
DERSİ

SÜRECİ

DEĞERLENDİRME

ETKİNLİK VE

FORMLARI

1.TEMA

NESNELERİN
GEOMETRİSİ-1

SÜRECİ

DEĞERLENDİRME

ETKİNLİK VE

FORMLARI

GEOMETRİK
ŞEKİLLER ve
CİSİMLER

SÜRECİ

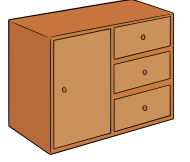

DEĞERLENDİRME

ETKİNLİK VE

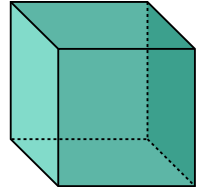
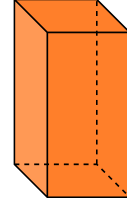
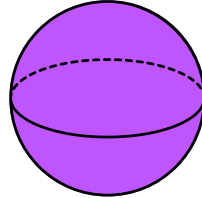
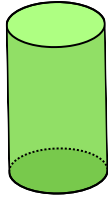
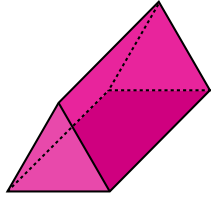
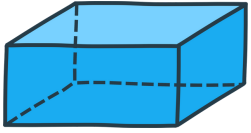
FORMLARI

2. Sınıf Süreç Odaklı Değerlendirme

1. Aşağıda verilen nesnelere köşeli olanları kırmızı, yuvarlak olanları maviye boyayalım.


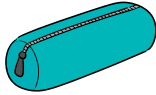


2. Aşağıda verilen geometrik cisimlerin adlarını uygun harflerle eşleştirelim.




Küp	Dikdörtgenler Prizması	Üçgen Prizması	Kare Prizması	Silindir	Küre
A	B	C	D	E	F

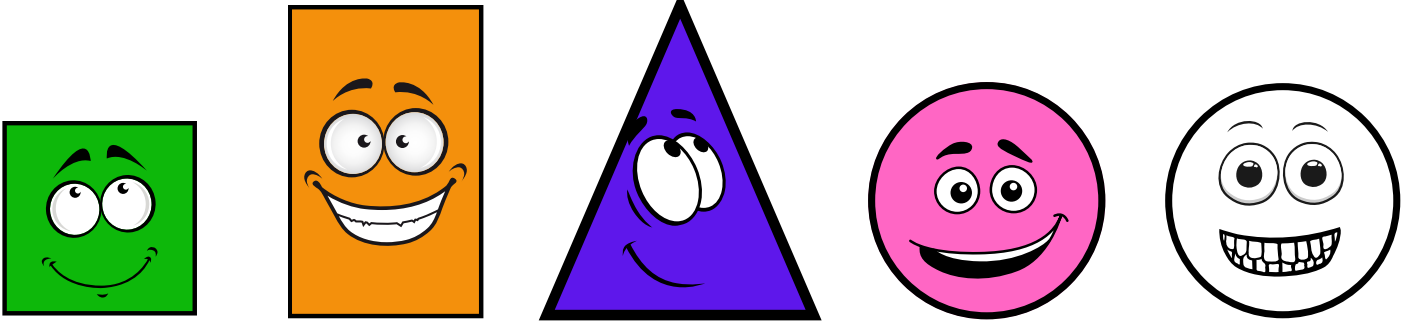
3. Aşağıdaki nesnelere silindire benzeyenleri işaretleyelim.




4. Aşağıdaki nesnelere kare prizmaya benzeyenleri işaretleyelim.



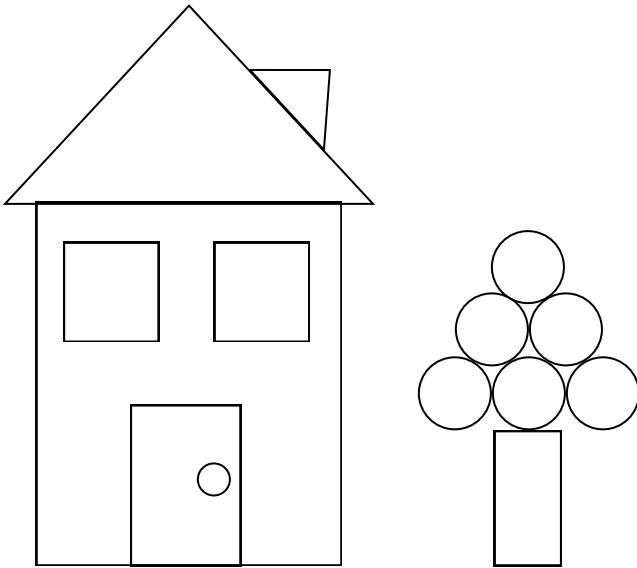
5. Aşağıdaki geometrik şekillerin adlarını yazalım.



6. Aşağıda verilen geometrik şekillerden dört köşeli olanları mavi, üç köşeli olanları pembe, köşesiz olanları sarı renge boyayınız.



7. Aşağıdaki görselde kullanılan geometrik şekillerin sayısını bulalım.



Kare Sayısı:

Dikdörtgen Sayısı:

Üçgen Sayısı:

Çember Sayısı:

MAT.2.3.3. Geometrik şekiller kullanarak modeller sentezleyebilme.

→ İlk soru 9 puan diğer sorular 4'er puandır.

Geliştirilmeli 0-10	Yeterli 11-17	İyi 18-26	Çok İyi 27-32
------------------------	------------------	--------------	------------------

"Geometrik Şekil ve Cisimler" Süreç Odaklı Değerlendirme

	Adı Soyadı	Toplam Puan	Genel Değerlendirme
1			
2			
3			
4			
5			
6			
7			
8			
9			
10			
11			
12			
13			
14			
15			
16			
17			
18			
19			
20			
21			
22			
23			
24			
25			
26			
27			
28			
29			
30			
31			
32			
33			
34			
35			
36			
37			
38			
39			