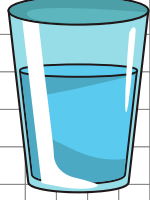



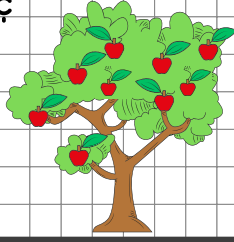
1. Her gün 4 bardak su içen dedem
6 günde kaç bardak su içer?



2. 8 ineğin kaç ayağı vardır?




3. Bahçemizde 3 elma ağacı var. Her
ağaçta 9 elma olduğuna göre
bahçemizde toplam kaç
tane elma vardır?




4. Her gün 8 sayfa kitap okuyan
Ece, 5 günde kaç sayfa kitap
okur?



5. 3 katlı bir apartmanın her katında
4 daire vardır. Apartmanımızda
toplam kaç daire vardır?



6. Çiçekçideki her bukette 7 adet
çiçek var. Babam 3 buket aldığına
göre toplam kaç çiçek almıştır?



7. Her gün 2 ekmek yiyen bir aile
bir haftada kaç ekmek tüketir?



8. Sınıfımızda 9 masa vardır. Her
masada 4 öğrenci oturduğuna
göre sınıfımızda kaç öğrenci
vardır?

