




Kübra elindeki 6 çileği 3 arkadaşına eşit olarak dağıtıyor. Buna göre Kübra her bir arkadaşına kaç çilek vermiştir?

**Çözüm:** 6'nın içinde 3 kaç kere var onu buluruz. Bunun için ardışık çıkarma ya da 6'ya kadar 3'er sayma yaparız. Kısa yoldan çözmek için **bölme işlemi** yaparız.



$$\begin{array}{r} 6 \quad 3 \\ - 6 \\ \hline 0 \end{array} \quad \text{2 çilek vermiştir}$$


1) 20 kurabiye 5 arkadaş aralarında eşit olarak paylaştığında her birine kaç kurabiye düşer?



Şekil Çizelim

İşlem Yapalım

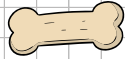
2) Bir çiçekçi sepetteki 12 laleyi 4 buketle eşit olarak dağıtmak istiyor. Her buketle kaç lale olur?



Şekil Çizelim

İşlem Yapalım

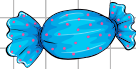
3) 15 kemik 3 köpeğe eşit olarak paylaştırıldığında her köpeğe kaç tane kemik düşer?



Şekil Çizelim

İşlem Yapalım

4) Babam 10 tane şekeri kardeşimle bana eşit olarak paylaştırdı. Ablam kaç şeker almıştır?



Şekil Çizelim

İşlem Yapalım

5) 8 muz 4 maymuna eşit olarak paylaştırsak her maymuna kaç tane muz düşer?



Şekil Çizelim

İşlem Yapalım