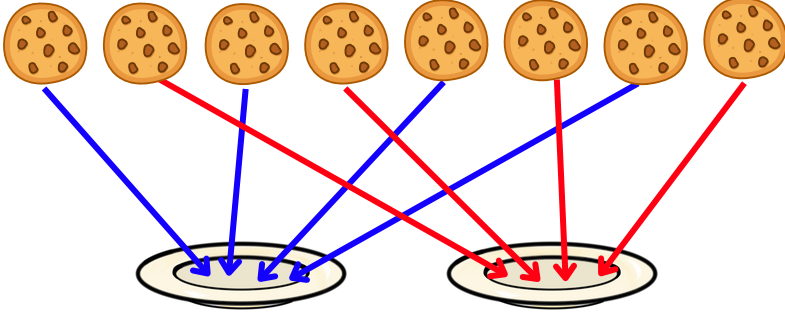


**Aşağıdaki kurabiyeleri her bir tabağa 1'er 1'er ok çizerek paylaşalım.**



Kaç kurabiye var?

8

Kaç tabak var?

2

Her bir tabakta

4

kaç kurabiye var?




Kaç kurabiye var?

Kaç tabak var?

Her bir tabakta

kaç kurabiye var?



Kaç kurabiye var?

Kaç tabak var?

Her bir tabakta

kaç kurabiye var?




Kaç kurabiye var?

Kaç tabak var?

Her bir tabakta

kaç kurabiye var?



Kaç kurabiye var?

Kaç tabak var?

Her bir tabakta

kaç kurabiye var?

