

Verilen sayıların onluk ve birliklerini bulunuz.

25

2 onluk 5 birlik

92

62

30

48

79

9

14

81

35

13

70

96

58

41

96

37

24

50

65


8

49

52

83


Onluk ve birlikleri verilen sayıları bulunuz.

6 onluk 3 birlik  63


2 onluk 7 birlik 

9 onluk 1 birlik 

4 onluk 3 birlik 

2 onluk 4 birlik 

8 onluk 2 birlik 

4 onluk 7 birlik 

3 onluk 6 birlik 

1 onluk 8 birlik 

7 onluk 1 birlik 

7 onluk 6 birlik 

4 onluk 0 birlik 

8 onluk 2 birlik 


1 onluk 3 birlik 

3 onluk 0 birlik 

8 onluk 9 birlik 

5 onluk 1 birlik 

2 onluk 4 birlik 

6 onluk 5 birlik 

9 onluk 3 birlik 

2 onluk 0 birlik 

7 onluk 6 birlik 