


- 1) Ayşegül 16 çileğin 4 tanesini yedi. Kalan çileklerin 3 tanesini kardeşine ikram etti. Geriye kaç çileği kaldı?

a) 9

b) 7

c) 10




- 2) Yalçın 20 sayfalık kitabın salı günü 6, cuma günü 4 sayfasını okudu. Geriye okuması gereken kaç sayfası kaldı?

a) 10

b) 7

c) 9




- 3) Bir terzi 18 metre kumaşın 5 metresiyle etek, 4 metresiyle pantolon dikti. Geriye kaç metre kumaşı kalmıştır?

a) 5

b) 9

c) 7




- 4) Sınıftaki 15 öğrencinin 8'i futbol, 5'i voleybol oynamayı seviyor. Geri kalan öğrenciler basketbol oynamayı seviyor. Basketbol seven kaç öğrenci vardır?

a) 4

b) 2

c) 6




- 5) Otobüsteki 17 yolcunun 5 tanesi ilk durakta, 4 tanesi 2. durakta indi. Otobüste kaç yolcu kaldı?

a) 8

b) 13

c) 9




- 6) Kumbaramadaki 16 TL'nin 6 TL'si ile balon, 5 TL'siyle de şeker aldım. Geriye ne kadar param kaldı?

a) 10

b) 11

c) 5




- 7) Ali 19 sorunun 3'ünü yanlış cevaplamış, 2'sini de boş bırakmıştır. Ali toplam kaç soruyu doğru cevaplamıştır?

a) 17

b) 5

c) 14



- 8) Dolaptaki 13 yumurtanın 5 tanesiyle annem kek yaptı. Yumurtalardan 2 tanesini dolaba koyarken kırdı. Dolapta kaç yumurta kalmıştır?

a) 6

b) 3

c) 7

