


# ÇIKARMA İŞLEMİ PROBLEMLERİ-1

Problemleri okuyalım. İşlemleri yanlarındaki kutucuklara yapalım.

Ağacın dalında 19 kuş vardı.  
Kuşlardan 7 tanesi uçtu.  
Ağacın dalında kaç  
kuş kaldı?




Cengiz 17 sayfalık kitabının  
9 sayfasını okudu. Geriye  
okunmayan kaç sayfa  
kalmıştır?




Tarık'ın 18 çiçeğinden 5 tanesi  
kurudu. Tarık'ın kurumayan  
kaç çiçeği kaldı?



Kübra bir tepsideki 17  
kurabiye'nin 5 tanesini yedi.  
Geriye tepside kaç  
kurabiye kaldı?




15 TL paramın 6 TL si ile bir  
çikolata aldım. Geriye kaç  
liram kaldı?



Bir okul servisindeki 21  
öğrencinin 8 tanesi ilk durakta  
indi. Serviste  
kaç öğrenci kaldı?



Bir baloncucu 20 tane balondan  
8 tanesini satmıştır.  
Baloncunun kaç balonu  
kalmıştır?



Dedemin kümesindeki 13  
tavuğun 4 tanesi kümeden  
kaçtı. Geriye kümede  
kaç tavuk kalmıştır?

